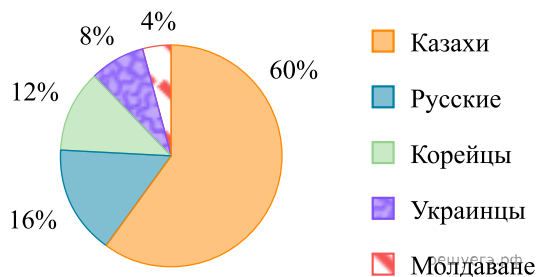


1. Национальный состав 10 «Г» класса классный руководитель представила в виде круговой диаграммы:



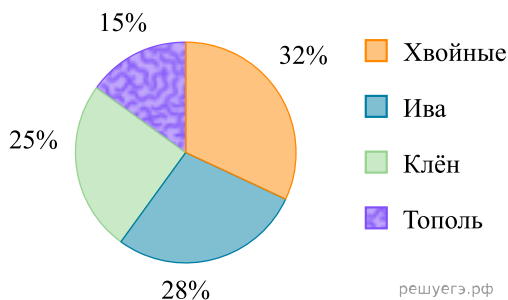
Во сколько раз количество учащихся казахов превышает количества учащихся корейцев?

- 1) в 2 раза 2) в 5 раз 3) в 4 раза 4) в 2,5 раза

2. В городском парке Жетысу хвойные деревья составляют 30%. В круговой диаграмме градусная мера сектора, соответствующего хвойным деревьям, равна

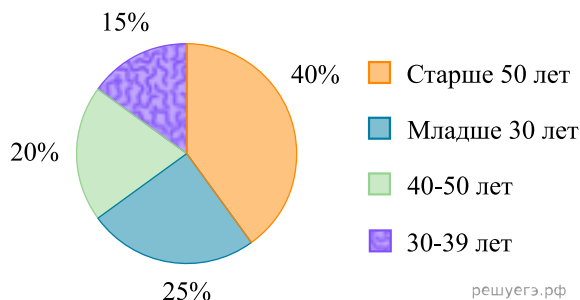
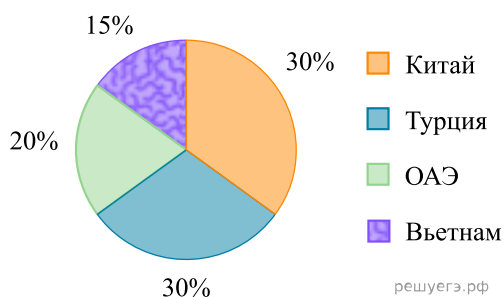
- 1) 110° 2) 108° 3) 100° 4) 124°

3. Используя данные диаграммы, определите градусную меру сектора, соответствующего клену.



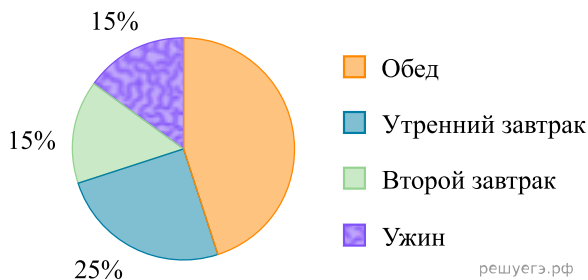
- 1) 104° 2) 100° 3) 90° 4) 80°

4. На данных круговых диаграммах показано распределение туристов из Казахстана: распределение туристов по странам и распределение по возрастам соответственно. Отношение процента туристов, отправившихся отдыхать в Турцию к проценту туристов младше 30 лет равно



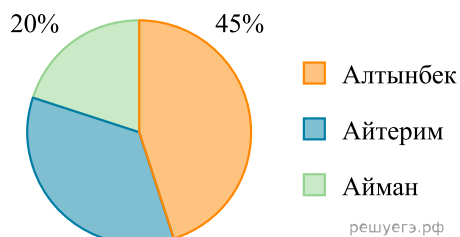
- 1) 6 : 5 2) 4 : 5 3) 2 : 5 4) 1 : 5

5. Врачи рекомендуют дневную норму питания распределить на четыре приема. Используя диаграмму, определите, какую часть от дневной нормы питания составляет обед.



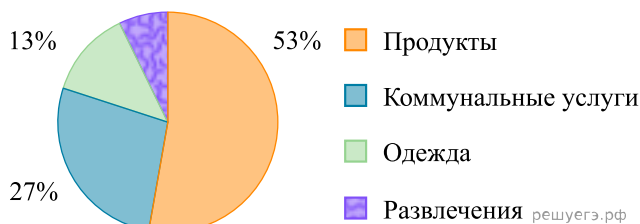
- 1) 0,45 2) 0,90 3) 0,15 4) 0,25

6. В диаграмме показаны результаты голосования, в котором участвовало 1000 учеников. Найдите, сколько голосов получила Айтерим?



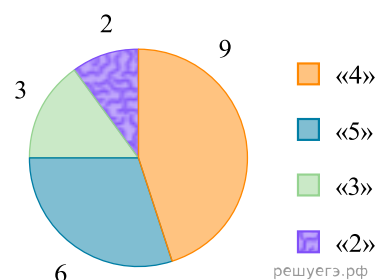
- 1) 135 2) 115 3) 300 4) 350

7. На диаграмме представлен отчет о тратах семьи за прошедший месяц. По данным диаграммы, определите, сколько рублей потратила семья на развлечения, если известно, что на одежду было истрачено 9750 рублей?



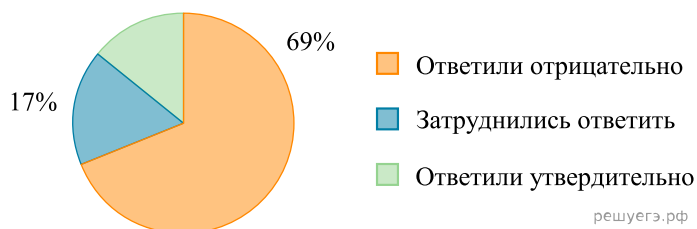
- 1) 9750 2) 5250 3) 5550 4) 10250

8. На диаграмме показаны результаты контрольной работы в 6«В» классе. Сколько процентов ребят получило отметку выше «3»?



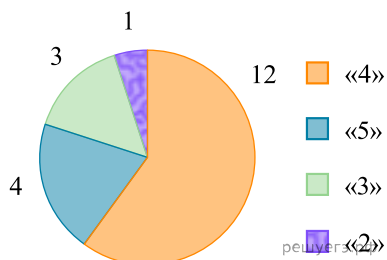
- 1) 50 2) 100 3) 75 4) 25

9. На диаграмме показаны результаты опроса. Сколько людей утвердительно ответило на вопрос, если известно, что в опросе принимало участие 200 человек?



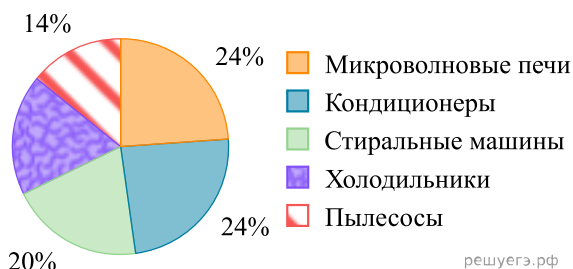
- 1) 56 2) 32 3) 14 4) 28

10. На диаграмме показаны результаты контрольной работы в 6«Б» классе. Сколько процентов ребят получило «5»?



- 1) 20 2) 50 3) 10 4) 25

11. На диаграмме представлены результаты продаж бытовой техники в магазине. Определите, используя данные диаграммы, сколько процентов от всех продаж приходится на холодильники?



- 1) 22% 2) 20% 3) 18% 4) 16%